

Домашнє завдання

Доброго дня, шановні батьки та учні!

На уроці ми продовжили вивчати тему Етнографічних регіонів України. Зокрема ми написали назви регіонів на контурній карті з червоної папки. Вдома прошу розмалювати їх різними кольорами, щоб добре було видно, де який регіон. УВАГА! Межі регіонів позначені косими штрихованими лініями. Ця карта з нанесеними регіонами буде ключем до виконання вправи 1.2.

Отже, на домашнє завдання прошу ще раз прочитати лекцію 1, ст.2-5, максимально ВИВЧИТИ НАЗВИ РЕГІОНІВ згідно поділу у підручнику (вказаних на контурній карті на ст.5 підручника: та сама карта, з якою ми працювали на уроці), а також виконати вправу 1-2 в червоній папці (у вправі 1-2 Кубань повинна бути під номером 16, але цифра 6 загубилася). Також, хто ще не виконав раніше, виконати Вправу 1-1.

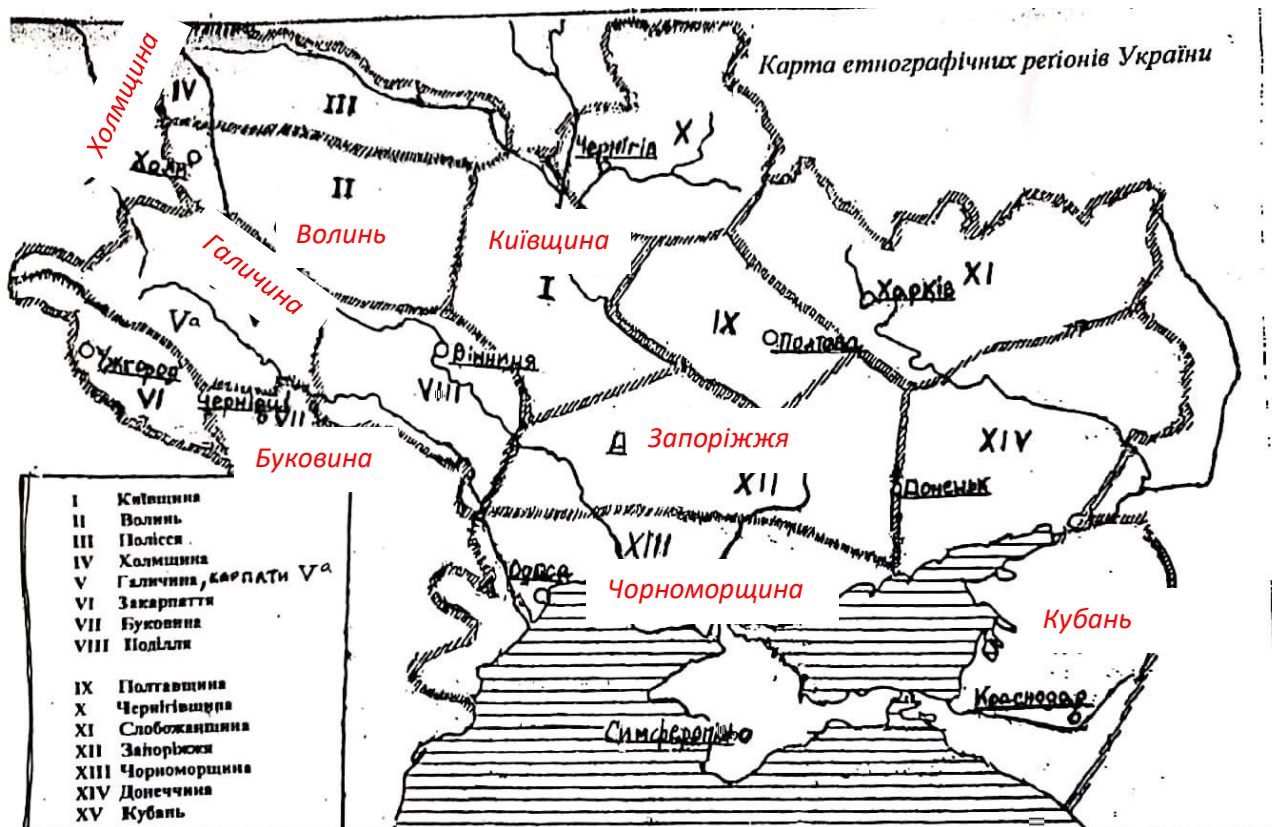
Наша мета не лише знати назви регіонів, але уявляти, де який регіон знаходиться на карті. Учні будуть їх показувати в класі біля дошки.


Увага! Якщо ви ще не заповнили форму з даними учня, прошу якнайскоріше її заповнити, щоб я могла надсилати домашні завдання та спілкуватися з вами!!! Прочу скористатися QR кодом:

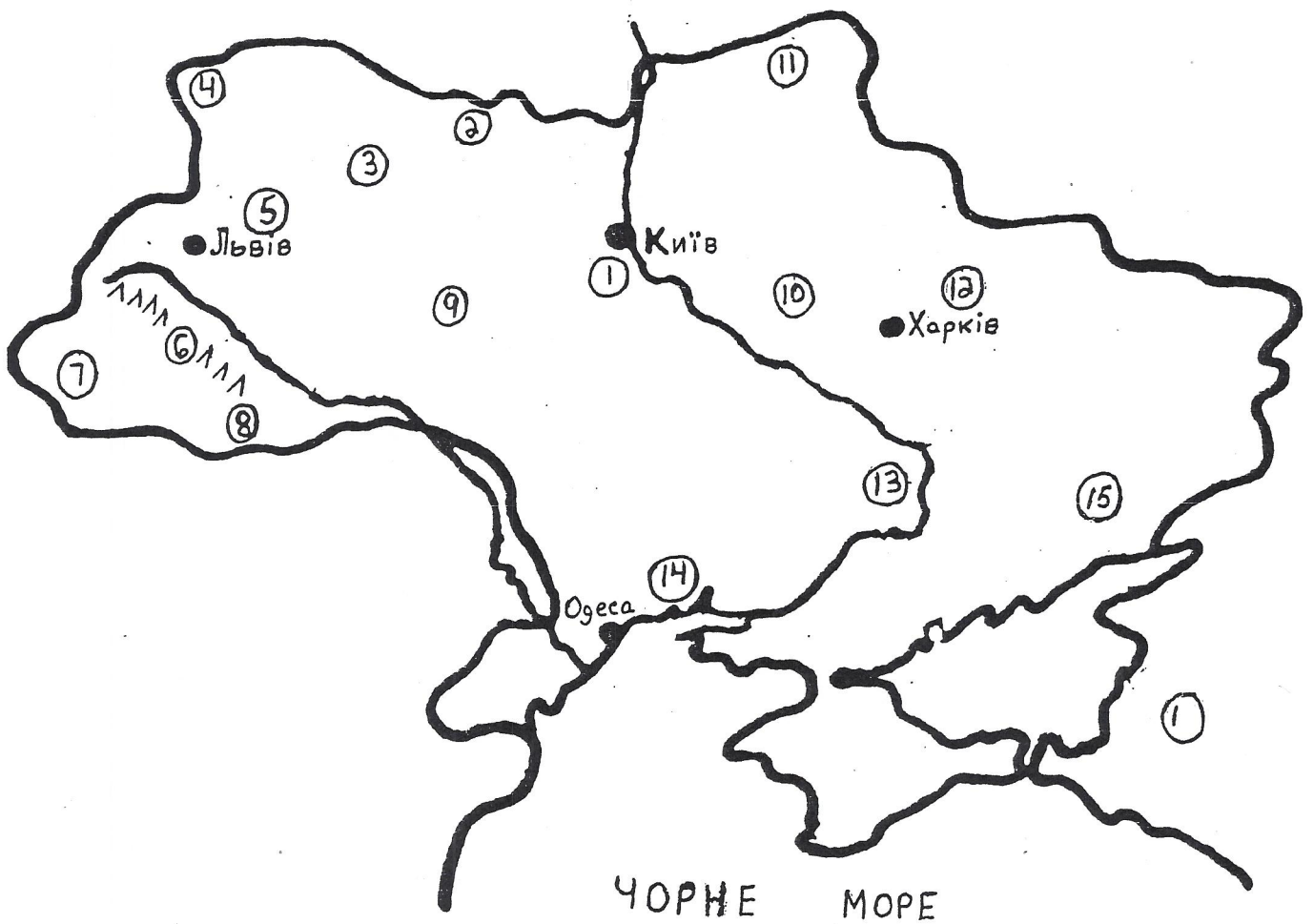


З повагою, класний керівник 8го класу та вчителька Культури 8 кл.,
Оксана Заваденко.

Приклад нанесення на Контурну карту ЕТНОГРАФІЧНИХ РЕГІОНІВ УКРАЇНИ:



 Етнографічні групи



❖ Вказівка: Знайди і напиши, який етнографічний регіон представляє кожне число на цій карті.

- | | |
|-----------|-------------------------------|
| 1. _____ | 2. _____ <i>Полісся</i> _____ |
| 3. _____ | 4. _____ |
| 5. _____ | 6. _____ |
| 7. _____ | 8. _____ |
| 9. _____ | 10. _____ |
| 11. _____ | 12. _____ |
| 13. _____ | 14. _____ |
| 15. _____ | 16. _____ |